



LOCAL DE PROVA

RG

GABARITO 04

ASSINATURA DO CANDIDATO

RESERVADO

1ª FASE: PROVA DE CONHECIMENTOS GERAIS

06 de julho de 2008

DURAÇÃO: 04 HORAS

INÍCIO: 09h 00min

TÉRMINO: 13h 00min

Leia com atenção todas as instruções abaixo

01. Para fazer sua prova, você está recebendo um caderno, contendo 60 (sessenta) questões de múltipla escolha, numeradas de 01 a 60.
02. Cada uma das questões apresenta um enunciado seguido de 4 (quatro) alternativas, das quais somente uma é a correta.
03. Os cadernos de provas contêm as mesmas questões e alternativas de respostas, mas, por medida de **SEGURANÇA**, a ordem em que estas aparecem pode variar de caderno para caderno.
04. Com ênfase na **SEGURANÇA** para o candidato e em virtude de razões logísticas e operacionais o caderno de prova deve ser, necessariamente, assinado no local indicado.
05. Examine se o caderno de prova está completo ou se há falhas ou imperfeições gráficas que causem qualquer dúvida. A CEV poderá não aceitar reclamações após 30 minutos do início da prova.
06. Decorrido o tempo determinado pela CEV, será distribuído o cartão-resposta, o qual será o único documento válido para a correção da prova.
07. Ao receber o cartão-resposta, verifique se o seu nome e número de inscrição estão corretos. **Reclame imediatamente**, se houver discrepância.
08. Assine o cartão-resposta no espaço reservado no cabeçalho.
09. Não amasse nem dobre o cartão-resposta para que o mesmo não seja rejeitado pela leitora óptica, pois não haverá substituição do cartão-resposta.
10. Marque suas respostas pintando completamente o quadradinho correspondente à alternativa de sua opção. Assim:
11. Será anulada a resposta que contiver emenda ou rasura, a que apresentar mais de uma alternativa assinalada por questão, ou, ainda, aquela que, devido à marcação, não consiga ser identificada pela leitora, uma vez que a correção da prova se dá por meio eletrônico.
12. É vedado o uso de qualquer material, além da caneta de tinta azul ou preta, para marcação das respostas.
13. Qualquer forma de comunicação entre candidatos implicará a sua eliminação.
14. Não será permitido ao candidato, durante a realização da prova, portar: armas; aparelhos eletrônicos de qualquer natureza; bolsas; livros, jornais ou impressos em geral; bonés, chapéus, lenço de cabelo, bandanas ou outros objetos que impeçam a visualização completa das orelhas.
15. É vedado o uso de telefone celular ou de qualquer outro meio de comunicação. O candidato que for flagrado portando aparelho celular, durante o período de realização da prova, ou, ainda, aquele candidato cujo aparelho celular tocar, mesmo estando embaixo da carteira, será, sumariamente, eliminado da Seleção.
16. O candidato, ao sair da sala, deverá entregar, definitivamente, seu **caderno de prova e o cartão-resposta** devidamente assinados, devendo, ainda, assinar a folha de presença.
17. É proibido copiar suas respostas em papel, em qualquer outro material, na sua roupa ou em qualquer parte de seu corpo. No entanto, sua grade de respostas estará disponível na página da CEV/UECE (www.uece.br), a partir das 17 horas do dia 08 de julho de 2008. O gabarito e as questões desta prova estarão disponíveis na página da CEV (www.uece.br), a partir das 15 horas do dia 06 de julho de 2008.
18. O candidato poderá interpor recurso administrativo contra o gabarito oficial preliminar, a formulação ou o conteúdo de questão da prova. O prazo para interposição de recursos se inicia no dia 07/07/2008, às 8 horas, e finda às 17 horas do dia 09/07/2008.
19. Os recursos serão dirigidos ao Presidente da CEV/UECE e entregues no Protocolo Geral da UECE, no Campus do Itaperi, Av. Paranjana, 1700, no horário das 08 às 12 horas e das 13 às 17 horas.

✘ Esta Prova Contém 60 (sessenta) questões, todas com 4 (quatro) alternativas, assim distribuídas: **Língua Portuguesa** (14 questões: **01-14**), **Matemática** (10 questões: **15-24**), **História** (06 questões: **25-30**), **Geografia** (06 questões: **31-36**), **Física** (06 questões: **37-42**), **Química** (06 questões: **43-48**), **Biologia** (06 questões: **49-54**), **Língua Estrangeira** (06 questões: **55-60**).

✘ Verifique se o caderno de prova está completo e legível. Qualquer imperfeição comunique, **IMEDIATAMENTE**, ao fiscal de sala.

Marque seu cartão-resposta, pintando completamente o quadrinho correspondente à sua resposta, conforme o modelo:



LÍNGUA PORTUGUESA

VIAGEM LONGA, DESTINO INCERTO... Rubem Alves

01 Esse é o mês em que sofro mais por causa de
02 vocês, moços. Tenho dó. Ainda nem deixaram de
03 ser adolescentes, e já são obrigados a comprar
04 passagens para um destino desconhecido,
05 passagens só de ida, as de volta são difíceis,
06 raras, há uma longa lista de espera. Alguns me
07 contestam: afirmam saber muito bem o lugar
08 para onde estão indo. Assim são os adolescentes:
09 sempre têm os bolsos cheios de certezas. Só
10 muito tarde desconhecem que certezas valem
11 menos que um tostão.

12 Seria muito mais racional e muito menos
13 doloroso que vocês fossem obrigados agora a
14 escolher a mulher ou o marido. Hoje casamento é
15 destino para o qual só se vende passagem de ida
16 e volta. É muito fácil voltar ao ponto de partida e
17 recomeçar: basta que os sentimentos e as idéias
18 tenham mudado.

19 Mas a viagem para a qual vocês estão
20 comprando passagens dura cinco anos, pelo
21 menos. E se depois de chegar lá vocês não
22 gostarem? Nada garante... Vocês nunca
23 estiveram lá. E se quiserem voltar? Não é como
24 no casamento. É complicado. Leva pelo menos
25 outros cinco anos para chegar a um outro lugar,
26 com esse bilhete que se chama vestibular e essa
27 ferrovia que se chama universidade. E é duro
28 voltar atrás, começar tudo de novo. Muitos não
29 têm coragem para isso, e passam a vida inteira
30 num lugar que odeiam, sonhando com um outro.

31 Em Minas, onde nasci, se diz que para se
32 conhecer uma pessoa é preciso comer um saco
33 de sal com ela. Os apaixonados desacreditam.
34 Quem é acometido da febre da paixão
35 desaprende a astúcia do pensamento, fica
36 abobalhado, e passa a repetir as asneiras que os
37 apaixonados têm repetido pelos séculos afora:
38 "Ah! mãe, ele é diferente..." "Eu sei que o meu
39 amor por ela é eterno. Sem ela eu morro..."
40 E assim se casam, sem a paciência de comer um
41 saco de sal. Se tivessem paciência descobririam a

42 verdade de um outro ditado: "Por fora bela viola;
43 por dentro pão bolorento..."

44 Coisa muito parecida acontece com a
45 profissão: a gente se apaixona pela bela viola, e
46 só tarde demais, no meio do saco de sal, se dá
47 conta do pão bolorento.

48 O Pato Donald arranhou um emprego de
49 porteiro, num edifício de ricos. Sentiu-se a
50 pessoa mais importante do mundo e estufou o
51 peito por causa do uniforme que lhe deram, cheio
52 de botões brilhantes, fios dourados e dragonas...

53 Acontece assim também na escolha das
54 profissões: cada uma delas tem seus uniformes
55 multicoloridos, seus botões brilhantes, fios
56 dourados e dragonas. Veja, por exemplo, o
57 fascínio do uniforme do médico. Por razões que
58 Freud explica, qualquer mãe e qualquer pai
59 desejam ter um filho médico. Lembram-se da
60 "Sociedade dos Poetas Mortos"? O pai do jovem
61 ator queria, por tudo nesse mundo, que o filho
62 fosse médico. E ele não está sozinho. O médico é
63 uma transformação poética do herói Clint
64 Eastwood: o pistoleiro solitário, apenas com sua
65 coragem e o seu revólver, entra no lugar da
66 morte para travar batalha com ela. Como São
67 Jorge. O médico, em suas vestes sacerdotais
68 verdes, apenas os olhos se mostrando atrás da
69 máscara, a mão segurando a arma, o bisturi, o
70 sangue escorrendo do corpo do inocente, em luta
71 solitária contra a morte. Poderá haver imagem
72 mais bela de um herói?

73 Todas as profissões têm seus uniformes, suas
74 belas imagens, sua estética. Por isso nos
75 apaixonamos e compramos bilhetes de ida... Mas
76 a profissão não é isso. Por fora bela viola, por
77 dentro pão bolorento...

(Adaptação)

Site: www.releituras.com/rubemalves_viagem_imp.asp

01. Do primeiro parágrafo do texto, pressupõe-se que
- A) os jovens necessitam de orientações quando da escolha de sua profissão.
 - B) os adolescentes são pressionados pelos pais para ingressarem em curso superior.
 - C) os jovens escolhem a profissão que lhes pode dar mais dinheiro.
 - D) os jovens ingressam cedo nas universidades.
02. No segundo parágrafo, subentende-se que
- A) ao escolher o curso, os jovens necessitam ter conhecimento sobre ele.
 - B) nem toda profissão dá ao jovem estabilidade econômica.
 - C) os jovens devem ter convicção na escolha da profissão.
 - D) há profissões que dão "status" ao profissional.
03. De acordo com o quinto parágrafo do texto,
- A) não se deve escolher uma profissão por mero impulso.
 - B) o sentimento é importante na escolha de uma profissão.
 - C) os jovens devem possuir informações sobre a profissão que vão escolher.
 - D) a paixão por uma profissão implica realização profissional.
04. No sexto parágrafo, o personagem Pato Donald representa a
- A) vaidade.
 - B) ambição.
 - C) avareza.
 - D) luxúria.
05. O texto sugere que
- A) os pais devem interferir na escolha profissional dos filhos.
 - B) os estudantes devem lutar pela profissão que escolheram.
 - C) o salário é importante para a escolha da profissão.
 - D) os pais devem orientar os filhos na escolha de sua profissão.
06. O autor conclui o texto com a idéia de que
- A) há profissões que dão mais "status" que outras.
 - B) o profissional deve valorizar sua profissão.
 - C) toda profissão passa por intempéries.
 - D) o bom profissional mede-se pelo resultado de seu trabalho.
07. Classifique as afirmativas que seguem como verdadeiras (V) ou falsas (F), de acordo com o texto:
- () 1. Muitas pessoas prestam vestibular sem a devida maturidade.
 - () 2. Ser bom profissional é como ser bem casado: "precisa comer um saco de sal".
 - () 3. Para a realização profissional é necessário sentimentos e idéias imutáveis.
 - () 4. Toda profissão bem escolhida preenche o profissional em sua totalidade.
 - () 5. Maus profissionais são consequência da permanência na profissão mal escolhida.
 - () 6. Para ser bom profissional é necessário, antes, se apaixonar pela profissão.
- Assinale a alternativa que contém a seqüência correta, de cima para baixo.
- A) V, V, V, V, V, V
 - B) V, V, F, F, F, F
 - C) F, F, V, F, V, F
 - D) V, F, V, F, V, F
08. Assinale a alternativa em cuja frase se encontra um sinônimo da palavra "dó", usada na frase "Tenho dó" (**linha 02**).
- A) Não sinto nenhuma comisseração pelo casal suspeito da morte da garota jogada do prédio.
 - B) O caso da garota jogada do 6º andar de um edifício causou revolta a toda a nação brasileira.
 - C) No enterro da menina assassinada houve muita comoção até dos repórteres e policiais.
 - D) O maestro iniciou a marcha fúnebre, teclando a primeira nota da escala musical.

09. Assinale a alternativa em que a pontuação está empregada conforme a norma padrão escrita.
- A) Os adolescentes quando estão se preparando para o vestibular, são bastante otimistas.
 - B) Os vestibulandos, como qualquer aluno, têm direito ao lazer.
 - C) Os jovens às vezes, ficam na dúvida quando têm que escolher a profissão.
 - D) De todas as provas do vestibular segundo os candidatos, a de Física é a mais difícil.
10. Assinale a alternativa cujas palavras preenchem adequadamente as lacunas.
- Os adolescentes que se preparam para o vestibular estão sempre _____ pressão emocional, uma vez que os pais, _____ quem eles confiam, não os orientam _____ a profissão _____ que os filhos almejam.
- A) sobre – a – sob – em
 - B) sob – em – em – a
 - C) sobre – a – sobre – a
 - D) sob – em – sobre – a
11. "Ainda nem deixaram de ser adolescentes, e já são obrigados a comprar passagens para um destino desconhecido, passagens só de ida, as de volta são difíceis, raras, há uma longa lista de espera. Alguns me contestam: afirmam saber muito bem o lugar para onde estão indo" (**linhas 02 a 08**). Assinale a alternativa cujo conectivo ligaria adequadamente os dois períodos acima.
- A) dado que
 - B) mas
 - C) por isso
 - D) como
12. "E **assim** se casam, sem a paciência de comer um saco de sal." (**linhas 40 e 41**). O vocábulo **assim** expressa a idéia de
- A) conclusão.
 - B) modo.
 - C) conseqüência.
 - D) explicação.
13. Observe o uso de ONDE na frase: "afirmam saber muito bem para onde estão indo" (**linhas 07 e 08**). Assinale a alternativa em que o emprego desse vocábulo está correto.
- A) Moro numa cidade onde só se apaixona quem come um saco de sal.
 - B) É difícil ao jovem escolher o curso superior onde vai freqüentar.
 - C) Pato Donald arranhou emprego num edifício aonde só rico se hospedava.
 - D) Clint Eastwood, com sua coragem e seu revólver, ia onde nem São Jorge chegava.
14. Quanto ao gênero, classifica-se o texto de Rubem Alves como
- A) crônica.
 - B) editorial.
 - C) carta.
 - D) artigo de opinião.

MATEMÁTICA

15. Considere os conjuntos $X = \{2, 4, 6, 8, \dots\}$, $Y = \{3, 6, 9, 12, \dots\}$ e $I = X \cap Y$. Se m é o maior elemento de I que é menor do que 1000, a soma dos algarismos de m é
- A) 21.
 - B) 24.
 - C) 18.
 - D) 27.
16. A soma de todos os números inteiros positivos a e b que satisfazem a igualdade $a^2 - b^2 = 15$ é
- A) 16.
 - B) 20.
 - C) 18.
 - D) 22.
17. Utilizando os algarismos 1, 2, 3 e 4, podemos formar números com 4 dígitos, todos estes dígitos distintos. A média aritmética entre o maior e o menor destes números é
- A) 2767,5.
 - B) 2757,5.
 - C) 2747,5.
 - D) 2777,5.

18. O valor de n para o qual os gráficos das funções $f, g : \mathbb{R} \rightarrow \mathbb{R}$, definidas por $f(x) = nx$ e $g(x) = x^3 + 6x^2 + 7x$, possuem exatamente dois pontos de interseção, pertence ao intervalo
- A) $[-3, -1]$.
B) $[3, 5]$.
C) $[1, 3]$.
D) $[-1, 1]$.
19. Sobre uma circunferência marcam-se 10 pontos distintos. O número máximo de triângulos que podemos construir, com vértices nestes pontos, é
- A) 140.
B) 120.
C) 130.
D) 110.
20. Um plano paralelo a duas arestas de um cubo, cujo volume mede 27 m^3 , o intercepta segundo um paralelogramo. A medida da maior área possível deste paralelogramo é
- A) $3\sqrt{2} \text{ m}^2$.
B) $\frac{3\sqrt{2}}{2} \text{ m}^2$.
C) $9\sqrt{2} \text{ m}^2$.
D) $\frac{9\sqrt{2}}{2} \text{ m}^2$.
21. Se o quociente da divisão do polinômio $p(x) = 6x^3 + 25x^2 + 27x + 20$ pelo polinômio $d(x)$ é $q(x) = 2x^2 + 3x + 1$ e o resto é $r(x) = 12$, então o produto dos coeficientes de $d(x)$ é
- A) 18.
B) 30.
C) 24.
D) 36.
22. O perímetro de um triângulo retângulo mede 24 m e sua hipotenusa mede 10 m. A medida da área deste triângulo é
- A) 24 m^2 .
B) 8 m^2 .
C) 12 m^2 .
D) 14 m^2 .

23. Desejamos construir uma calçada em volta de dois lados consecutivos de um terreno retangular. A calçada é exterior ao terreno e tem largura constante. Se duas das dimensões do terreno são 20 m e 30 m, respectivamente, e a área da calçada mede $77,25 \text{ m}^2$, então sua largura mede
- A) 2,00 m.
B) 1,50 m.
C) 1,75 m.
D) 1,25 m.
24. Sobre três circunferências localizadas em um mesmo plano, com centros não colineares, podemos afirmar corretamente que
- A) a interseção das três circunferências é o conjunto vazio.
B) a interseção das três circunferências é um conjunto com exatamente dois elementos.
C) a interseção das três circunferências é um conjunto com no máximo um elemento.
D) a interseção das três circunferências é um conjunto com exatamente três elementos.

HISTÓRIA

25. "A história do contato das raças chamadas superiores com as consideradas inferiores é sempre a mesma: extermínio ou degradação".
Fonte: FREYRE, Gilberto. Casa Grande e Senzala. São Paulo: Círculo do Livro, 1993, p.143.

No que tange à afirmação acima, o autor refere-se aos primeiros contatos entre colonizadores e colonizados no Brasil Colonial. Com relação a essa fase da História do Brasil, são feitas as seguintes afirmações:

- I. A reduzida minoria colonial foi "intoxicada" pelos "costumes pagãos" dos habitantes da colônia, apesar da grande influência e poder dos missionários da Companhia de Jesus.
- II. O uso forçado do vestuário europeu influenciou o desenvolvimento das doenças de pele e dos pulmões que tanto concorreram para a dizimação das populações indígenas.
- III. Os colonizadores impuseram ao povo colonizado a sua cultura sufocando a espontaneidade nativa: dos ritos religiosos à língua, da cultura artística às vestimentas.

Sobre as três afirmações, assinale o correto.

- A) Apenas a I e a II são verdadeiras.
B) Apenas a I e a III são verdadeiras.
C) Todas são verdadeiras.
D) Apenas a II e a III são verdadeiras.
26. "No dia 17 de janeiro de 1808, a Real Casa de Bragança chega ao Rio de Janeiro, após 45 dias navegando pelos mares do Atlântico Sul, com rápida estada em Salvador".
Fonte: AZEVEDO, Francisca L. Carlota Joaquina na Corte do Brasil. Rio de Janeiro: Civilização Brasileira 2003, p 69.
- Como resultado da transferência da Corte Portuguesa ao Brasil, podemos citar
- A) a autonomia política do Brasil em relação a Portugal.
B) o colapso do sistema econômico brasileiro, baseado na mão de obra escrava.
C) o final do sistema colonial e a instauração do regime republicano no Brasil.
D) a abertura dos Portos e o conseqüente rompimento do pacto colonial.

27. “A situação de extrema desigualdade na distribuição da terra e da renda, da discriminação contra velhos, mulheres e negros produz um resultado desastroso para a humanidade: a violência e a morte”.

Fonte: Jornal Folha de São Paulo. Violência Urbana. 28 de março de 2008, pp. 05-06.

No tocante a algumas razões apontadas para o quadro de violência que observamos hoje no Brasil **NÃO** é lícito afirmar que:

- A) nas grandes cidades, as pessoas convivem cotidianamente com a violência e esta não surpreende a mais ninguém. Há uma indiferença total de todos em relação a este fato que já se banalizou.
 - B) a violência que sofrem os explorados e injustiçados em busca de uma sobrevivência menos dura em conflito com a violência dos poderosos que procuram manter seus privilégios pode ser apontada como uma causa para a violência reinante no país.
 - C) a violência no trânsito, hoje no Brasil, atinge de modo especial aqueles que não conduzem veículos: as crianças e, na escala seguinte, os idosos.
 - D) nas duas maiores metrópoles brasileiras – São Paulo e Rio de Janeiro – a violência se apresenta envolta em homicídios, roubos e tráfico de drogas.
28. O processo histórico da *Descolonização*, ocorrido após a Segunda Guerra Mundial, configurou-se pela busca gradativa de independência por parte de países que, nos séculos XIX e XX, sofreram impacto do imperialismo, sob a forma de colonialismo. Sobre esse processo, assinale o correto.
- A) Trata-se de determinados países, localizados em diferentes áreas geográficas do mapa geopolítico do século XX e que, ainda, são totalmente dependentes de nações européias e dos EUA. É marcado por reivindicações de autonomia política.
 - B) Trata-se de um movimento liderado pela Ásia, África e América Latina que buscavam uma recuperação econômica pós-guerra. Reivindicavam pagamento de indenizações por todas as políticas coloniais impostas, desde os mais remotos tempos.
 - C) Trata-se de uma proposta dos países europeus para suas colônias localizadas na África e na Ásia, a partir do redimensionamento dos acordos políticos e econômicos.
 - D) Trata-se de países afro-asiáticos que procuraram obter sua independência política e econômica. É regulado pela política de “concessão” de autonomia que difere, segundo o país colonizador e a especificidade de cada território.

29. Coube a Sólon, político ateniense (640–c. 558 a.C.), modificar as leis que vigoravam em Atenas, dando o primeiro passo rumo à constituição democrática em Atenas. Assinale a alternativa que contém uma afirmação verdadeira.

- A) As leis de Sólon atingiram diretamente os aristocratas e o descontentamento dos pobres, que eram obrigados a venderem-se como escravos, para saldar suas dívidas.
 - B) Os atenienses quiseram uma nova constituição, pois a constituição monárquica vigente até aquele momento favorecia as tendências despóticas do rei.
 - C) Sólon conquistou o poder com a força e se auto-proclamou tirano, decidiu alterar a constituição de modo a favorecer sua classe.
 - D) Os atenienses decidiram cancelar os privilégios dos ricos e instalar um modelo igualitário, inspirado naquele espartano.
30. “Não estou disposto a entregar minhas armas. Morrerei com os poucos que me acompanham, porque é preferível morrer como rebeldes a viver como escravos”.
- Fonte: SELSER, G. **Sandino, General de homens livres**. Editorial Global, São Paulo, 1979, p.33.

Com estas palavras, Sandino não aceita o chamado “Pacto do Espinho Negro” que dava por encerrados os conflitos da Guerra Constitucionalista, marcando o início de uma longa fase de resistência à política norte-americana em seu país.

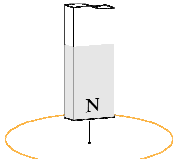

Assinale a alternativa que contém uma afirmação verdadeira.

- A) Sandino e seus seguidores criaram as Forças Armadas Revolucionárias do Panamá, se rebelando contra o imperialismo americano e pelo controle político do país e do Canal do Panamá.
- B) Sandino e seus seguidores deram início à sangrenta revolução socialista de São Domingos, na República Dominicana. Tinham como objetivo a expulsão de todos os estrangeiros do país, em especial os americanos.
- C) Sandino e seus seguidores atuaram na Guerra Constitucionalista, um conflito violento, em território mexicano, marcado por lutas interburguesas (burguesia urbana versus oligarquia rural), e fomentada pelos Estados Unidos.
- D) Sandino e seus seguidores resistiram durante sete anos contra o domínio militar americano na Nicarágua, quando muito sangue foi derramado com um grande massacre de camponeses.

GEOGRAFIA

31. Os ambientes dotados de maior instabilidade e/ou vulnerabilidade apresentam, simultaneamente, as seguintes características:
- A) regiões tectonicamente calmas, desde longos tempos e ausências de manifestações vulcânicas e de sismicidade capazes de desencadear paroxismos crustais.
 - B) relevos fortemente dissecados e com declives muito íngremes das vertentes que impedem a intensificação dos processos pedogenéticos e a fixação de vegetação florestal.
 - C) nítida predominância de pedogênese (formação de solos) em face da incapacidade das ações pluviais e eólicas de remover e transportar sedimentos.
 - D) Recobrimento vegetal primário muito pouco alterado ou em franca recuperação, evoluindo para condições de equilíbrio ambiental entre os componentes abióticos e bióticos.
32. Sobre questões de natureza da cartografia geográfica, assinale a alternativa que contém uma afirmação verdadeira.
- A) O relevo, os solos e as rochas são representados, respectivamente, nos mapas geomorfológico, hipsométrico e geológico.
 - B) O mapeamento de áreas urbanas requer a utilização de escalas maiores como, por exemplo, 1:100.000.
 - C) A representação da terra por meio de mapas ou cartas oferece problemas que podem ser solucionados por meio das projeções cartográficas, das escalas e das convenções.
 - D) A produção de mapas tem pouca utilidade prática e não depende da utilização de imagens de sensoriamento remoto ou de aerofotos.
33. A análise do mapa fitogeográfico brasileiro revela, de imediato, que
- A) o bioma da caatinga ocorre, indistintamente, nas diferentes regiões do país.
 - B) há predominância de formações arbustivas e herbáceas.
 - C) as araucárias são espécies características de planaltos do Sudeste e do Centro-Oeste.
 - D) há predominância de formações florestais.
34. Tem sido comum os principais meios de comunicação veicularem editoriais e artigos discutindo a internacionalização da Amazônia. Sobre essa internacionalização, assinale o correto.
- A) Consiste na divisão desta área com os países que fazem fronteira com o Brasil.
 - B) Associa-se aos interesses estrangeiros sobre a biodiversidade da floresta.
 - C) É um tratado internacional para o uso dos recursos naturais da floresta.
 - D) É um tratado internacional para o desenvolvimento sustentável da floresta.
35. As áreas úmidas no Ceará são denominadas de brejos, ilhas de umidade, enclaves úmidos ou oásis. Por conta desta umidade, tornaram-se também, as áreas de maior concentração populacional. Assinale, entre as alternativas a seguir, a que aponta somente áreas úmidas.
- A) Chapada do Araripe, serra de Maranguape e cuesta da Ibiapaba
 - B) Sertão dos Inhamuns, serra da Meruoca e região do baixo Jaguaribe.
 - C) Cuesta da Ibiapaba, vale do rio Acaraú e o Sertão de Canindé.
 - D) Perímetro Irrigado Curu-Paraipaba, chapada do Araripe e sertão dos Inhamuns.
36. Em relação à Região Nordeste e o seu processo de inserção na economia mundial é correto afirmar que
- A) o processo de modernização da agropecuária generalizou-se, conseguindo abastecer o mercado interno da região.
 - B) a modernização da economia e do território tende a acabar com as diferenciações socioeconômicas intra-regionais.
 - C) as capitais nordestinas, com exceção de Teresina, estão se especializando no setor turístico nacional e internacional.
 - D) dentre os pólos industriais mais dinâmicos, destacam-se o pólo petroquímico, no Ceará, e o de confecções, no Piauí.

FÍSICA

37. Um passageiro está caminhando para o oeste, dentro de um trem que se move, em alta velocidade, para o leste. Para uma pessoa que está parada na estação, enquanto o trem passa, esse passageiro
- A) se move para o leste, um pouco mais lentamente que o trem.
 - B) está parado.
 - C) se move para o oeste.
 - D) se move para o leste, na mesma velocidade que o trem.
38. Quando aumentamos a temperatura de um gás contido em um cilindro rígido e fechado, de volume constante, podemos afirmar, corretamente, que
- A) as moléculas do gás vão se mover mais lentamente.
 - B) a quantidade de espaço vazio dentro do cilindro vai aumentar.
 - C) as moléculas do gás vão perder energia cinética.
 - D) as moléculas do gás vão se chocar com as paredes do cilindro, mais frequentemente e com mais força.
39. Um mergulhador está submerso no mar, nadando para frente, com velocidade constante. A direção da força resultante, exercida pela água sobre ele é
- A) para frente.
 - B) para cima.
 - C) para baixo.
 - D) nenhuma (isto é, a força resultante é nula).
40. Duas cargas iguais são mantidas em repouso, próximas, uma da outra. Quando soltas, elas irão
- A) aproximar-se uma da outra, com aceleração variável.
 - B) aproximar-se uma da outra, com aceleração constante.
 - C) afastar-se uma da outra, com aceleração variável.
 - D) afastar-se uma da outra, com aceleração constante.
41. O pólo norte de um magneto é inserido, de cima para baixo, em uma espira de cobre, como mostrado no diagrama.
- 
- Devido a isto, a espira vai experimentar
- A) uma força para cima.
 - B) força nenhuma.
 - C) um torque no sentido dos ponteiros de um relógio, visto de cima.
 - D) uma força para baixo.
42. Mesmo com uma fonte de luz intensa e pontual e um objeto perfeitamente opaco, é impossível produzir uma sombra nítida, com as bordas perfeitamente definidas, em um anteparo próximo ao objeto, como mostra a figura. Esse fenômeno dá-se devido ao fato de que, nas bordas do objeto, ocorre
- 
- A) refração da luz.
 - B) difração da luz.
 - C) reflexão da luz.
 - D) aberração cromática da luz.

QUÍMICA

43. O sabonete hidratante, com proteínas da aveia, combina as propriedades calmantes dessas proteínas a uma agradável fragrância que limpam e cuidam de sua pele, deixando-a hidratada, nutrida e, suavemente, perfumada. Contém, em sua composição, o 2 - octil - dodecan - 1 - ol. Com relação a esse composto, pode-se afirmar, corretamente, que
- A) trata-se de um álcool primário.
 - B) pertence à família dos fenóis.
 - C) é um álcool secundário.
 - D) por ser responsável pela fragrância, é um álcool aromático.

44. Por suas características, o silicone tem uma grande aplicação em mais de cinco mil produtos sendo utilizado em polimentos, vedação, proteção, impermeabilização, lubrificação e, na medicina, como material básico de próteses em cirurgias plásticas. Sobre as propriedades do silicone, assinale a alternativa que contém a afirmação verdadeira.

- A) Quando afirmamos que ele é inodoro, insípido e incolor estamos tratando de suas propriedades gerais.
- B) O elevado ponto de fusão que permite ao silicone suportar, sem problemas, até uma temperatura de 400 °C, é uma propriedade funcional.
- C) A pequena reatividade química é uma propriedade organoléptica do silicone que explica, em parte, sua grande utilização.
- D) É um polímero de massa molecular, relativamente, elevada formado por sílica, oxigênio e radicais orgânicos.

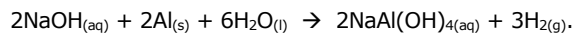
45. Quatro internautas, em locais diferentes, iniciaram trocas de mensagens através de seus endereços eletrônicos (e-mails). As duas primeiras letras de seus nomes são símbolos de elementos químicos. As mensagens trocadas, que auxiliam a identificar o elemento químico, cujo símbolo, é formado pelas duas primeiras letras do nome de cada internauta que a passou, foram:

- (I): usado em letreiros luminosos para propaganda.
- (II): combina-se com o sódio e o oxigênio para formar um sal que, em solução aquosa, possui efeito bactericida; com o hidrogênio forma um ácido forte.
- (III): de uso geral na indústria elétrica, principalmente em fios; também é, amplamente, usado nas ligas metálicas, como o bronze e o latão.
- (IV): é muito usado em jóias e tem larga aplicação na douração de objetos.

Seus nomes, na ordem em que estão apresentadas suas mensagens, podem ser:

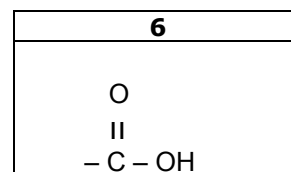
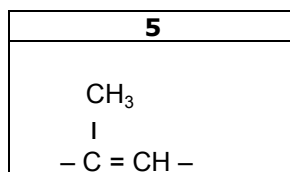
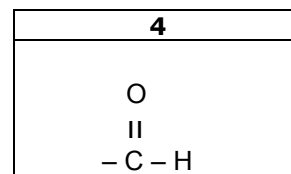
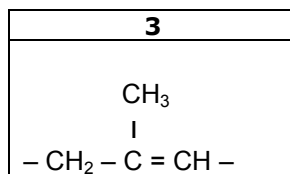
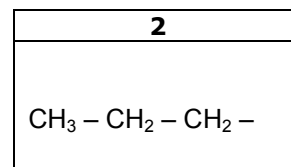
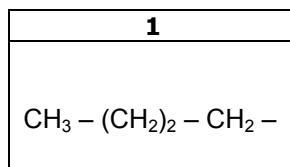
- A) Nelia, Clarisse, Custódio e Aucimar.
- B) Heliomar, Clotilde, Fernando e Nivardo.
- C) Nestor, Breno, Tiquinho, Creuza
- D) Hermes, Flávio, Alfredo, Aurélio.

46. No desentupimento de canos, é usada uma mistura de hidróxido de sódio e alumínio em pó que, quando misturados à água, reagem, exotermicamente, de acordo com a reação:



Sabendo-se que, em determinado processo, reagiram 3,0 g de Al com excesso de NaOH, assinale o correto.

- A) Nesta reação ocorre a redução do alumínio e a oxidação do hidrogênio.
 - B) O calor gerado ajuda a fundir as gorduras, e o hidrogênio produzido, sob pressão, remove os resíduos.
 - C) O volume de H₂ produzido em PTP é, aproximadamente, 5,0 L.
 - D) O composto NaOH é uma base fraca e pouco solúvel.
47. O ácido 3 - metil - hex - 2 - enóico causa o odor desagradável, no processo que ocorre na pele humana durante a transpiração. Ele é produzido por bactérias que se alimentam do material liberado por glândulas que temos nas axilas. As peças numeradas de 1 a 6 representam partes de moléculas.



Para se formar a fórmula estrutural desse ácido deve-se usar a seguinte seqüência de peças:

- A) 2, 5, 4
- B) 2, 5, 6
- C) 1, 5, 6
- D) 2, 3, 6

48. Segundo o jornal Folha de São Paulo (16/04/2008), novos estudos atribuem o naufrágio do Titanic ao emprego equivocado de rebites na fixação das chapas de ferro do casco. Os tais rebites eram feitos de ferro e não de uma liga apropriada. Sobre ligas, assinale o correto.

- A) Amálgama é o nome particular dado a uma liga de mercúrio e outro metal, ainda hoje usada em restaurações dentárias.
- B) Ligas metálicas são materiais que contêm dois ou mais elementos químicos, sendo que todos eles são, obrigatoriamente, metais.
- C) O emprego das ligas é vantajoso porque elas apresentam propriedades físicas definidas, tendo pontos de fusão e ebulição constantes.
- D) As ligas obedecem, rigorosamente, à lei de Proust, por terem uma estrutura cristalina bem definida o que lhes garante maior resistência à corrosão.

**DADOS QUE PODEM SER UTILIZADOS NA
PROVA DE QUÍMICA**

ELEMENTO QUÍMICO	NÚMERO ATÔMICO	MASSA ATÔMICA
H	1	1,0
C	6	12,0
O	8	16,0
Na	11	23,0
Al	13	27,0
Si	14	28,0
Fé	26	56,0

PTP = PRESSÃO E TEMPERATURA PADRÃO
VOLUME MOLAR NA PTP = 22,4 L

BIOLOGIA

49. A tecnologia tem avançado a partir da pesquisa. Isto tem acontecido ao longo do tempo e, portanto, não é um fato inusitado. Por exemplo, no século XVIII, Lázaro Spallanzani, ao aquecer caldos nutritivos, foi o precursor dos enlatados. O processo desenvolvido foi o de

- A) abiogênese.
- B) esterilização.
- C) pasteurização.
- D) fermentação.

50. No ciclo de vida da alga unicelular *Chlamidomonas sp* a meiose é zigótica. O significado deste fato é que

- A) os organismos adultos são haplóides, funcionando como gametas haplóides.
- B) os organismos adultos são haplóides, produzindo gametas diplóides.
- C) o ciclo de vida é haplobionte diplonte.
- D) o ciclo de vida é diplobionte.

51. O melhoramento genético tem contribuído para uma produção crescente de alimentos. Quando se obtém uma variedade melhorada e se quer manter aquele padrão genético, ou se promove a autofecundação, no caso de plantas monóicas; ou se escolhe poucos indivíduos, que são cruzados entre si por várias gerações, no caso das plantas e animais dióicos. Este processo denomina-se

- A) heterose.
- B) cultura de tecidos.
- C) produção de organismos transgênicos.
- D) endogamia.

52. Os cupins são animais incapazes de digerir a celulose, muito embora se alimentem de madeira. Para que isso seja possível, relacionam-se com protistas fixadores de nitrogênio que vivem em seu intestino. As relações inter-específicas cupim-árvore e cupim-protozoário podem ser classificadas, respectivamente, como

- A) comensalismo e parasitismo.
- B) parasitismo e mutualismo.
- C) parasitismo e competição.
- D) inquilinismo e mutualismo.

53. Quando naufragos ficam à deriva, em alto mar, não conseguem matar a sede e a fome, muito embora se encontrem cercados abundantemente por água e por peixes. Podemos afirmar que a água do mar não é adequada para o consumo humano, porque sua ingestão acarreta,

- A) hiper-hidratação dos tecidos e aumento do volume sanguíneo.
- B) hiper-hidratação dos tecidos e diminuição do volume sanguíneo.
- C) desidratação dos tecidos e aumento do volume sanguíneo.
- D) desidratação dos tecidos e diminuição do volume sanguíneo.

54. Em relação ao HIV, vírus da AIDS, assinale a alternativa que contém uma afirmação verdadeira.
- A) O RNA do HIV é incapaz de se duplicar, porém, associado à transcriptase reversa, produz um molde de DNA passando, dessa maneira, a produzir RNA.
 - B) A informação genética desses vírus encontra-se localizada no DNA que se duplica em grande velocidade, não dando tempo de as células produzirem anticorpos.
 - C) O vírus da AIDS é considerado um retrovírus, pois o DNA sofre duplicação durante a instalação da doença.
 - D) O vírus da AIDS possui DNA e RNA, conferindo-lhe uma grande capacidade de autoduplicação.

LÍNGUA ESPANHOLA

TEXTO

01 A Petrone le gustó el hostel Cervantes por
02 razones que hubieran desagradado a otros.
03 Era un hostel sombrío, tranquilo, casi
04 desierto. Alguien lo recomendó cuando
05 cruzaba el río en el vapor, diciéndole que se
06 ubicaba en la zona céntrica de Montevideo.
07 Petrone aceptó una habitación modesta, con
08 baño en el segundo piso, que daba
09 directamente a la sala de recepción. Por el
10 tablero de llaves en la portería supo que
11 había poca gente en el hostel; las llaves
12 estaban unidas a unos pesados discos de
13 bronce con el número de la habitación,
14 inocente recurso de la gerencia para impedir
15 que los clientes se las echaran al bolsillo.
16 El ascensor dejaba frente a la recepción,
17 donde había un mostrador con los diarios del
18 día y el tablero telefónico. Le bastaba caminar
19 unos metros para llegar a la habitación. El
20 agua salía hirviendo, y eso compensaba la
21 escasez de luz y falta de sol y aire. En la
22 habitación había una pequeña ventana que
23 daba a la azotea del cine contiguo; a menudo
24 una paloma se paseaba por ahí. El cuarto de
25 baño tenía una ventana más grande, que se
26 abría tristemente a un muro y a un lejano
27 pedazo de cielo. Los muebles eran buenos,
28 había cajones y estantes de sobra. Y muchas
29 perchas, cosa rara.
30 El gerente resultó ser un hombre alto y
31 flaco, completamente calvo. Usaba anteojos
32 con armazón de oro y hablaba con la voz
33 fuerte y sonora de los uruguayos. Le dijo a
34 Petrone que el segundo piso era muy
35 tranquilo y que en la única habitación

36 contigua a la suya vivía una señora sola,
37 empleada en alguna parte, que volvía al
38 hostel a la caída de la noche. Petrone la
39 encontró al día siguiente en el ascensor. Se
40 dio cuenta de que era ella por el número de la
41 llave que tenía en la palma de la mano, como
42 si ofreciera una enorme moneda de oro. El
43 portero tomó la llave y la de Petrone para
44 colgarlas en el tablero y se quedó hablando
45 con la mujer sobre unas cartas. Petrone tuvo
46 tiempo de ver que era todavía joven,
47 insignificante, y que se vestía mal como todas
48 las orientales.
49 Antes de salir Petrone charló con el
50 empleado que atendía la recepción y que
51 hablaba con acento alemán. Mientras se
52 informaba sobre líneas de autobús y nombres
53 de calles, miraba distraído la gran sala en
54 cuyo extremo estaban las dos puertas de su
55 habitación, y la de la señora sola. Entre las
56 dos puertas había un pedestal con una
57 nefasta réplica de la Venus de Milo. Otra
58 puerta, en la pared lateral, daba a una salita
59 con butacas y alfombras. Cuando el empleado
60 y Petrone callaban, el silencio del hostel
61 parecía coagularse, caer como ceniza sobre
62 los muebles y las baldosas. El ascensor
63 resultaba casi estrepitoso, y lo mismo el ruido
64 de las hojas de un diario o el raspar de un
65 fósforo.

CORTÁZAR, Julio. *Cuentos Completos/1*. Alfaguara, México, 1966, pp. 310-311. Adaptado.

CUESTIONES

55. Petrone, el personaje de la narración,
- A) supo del hostel mientras caminaba en la zona céntrica de Montevideo.
 - B) optó por una habitación en la planta baja, que daba a la sala de recepción.
 - C) se dio cuenta de que el hostel solía desagradar a todos los clientes.
 - D) se quedó en una habitación sencilla, con poca iluminación.
56. El autor deja muy claro al lector que
- A) Petrone fácilmente reconoció a la señora que vivía en la habitación contigua.
 - B) desde la habitación se veía muy bien a las personas que estaban en el cine.
 - C) el portero dijo a Petrone que la señora era exquisita y todavía joven.
 - D) los huéspedes del hostel eran personas de la entera confianza de la gerencia.

57. La lectura del texto nos lleva a concluir que Petrone
- A) era un hombre alto que hablaba con acento alemán.
 - B) quería obtener informaciones para facilitar su recorrido por la ciudad.
 - C) estaba mirando con demasiada atención el interior de la alcoba de su vecina.
 - D) se sorprendió con el silencio inusual de aquel fastuoso hostel.
58. En “**a menudo** una paloma se paseaba por ahí” (líneas 23/24), la expresión en negrilla quiere decir
- A) recientemente.
 - B) con frecuencia.
 - C) al mismo tiempo.
 - D) con pasos menudos.
59. En las frases “el gerente resultó ser un hombre alto y **flaco**” (líneas 30/31) y “tuvo tiempo de ver que era **todavía** joven” (líneas 45/46), los términos en letras destacadas
- A) son vocablos heterosemánticos o falsos amigos.
 - B) el primero significado “fraco”; el segundo, “contudo”.
 - C) ejercen, respectivamente, la función de adverbio y conjunción.
 - D) pueden ser sustituidos, con el mismo significado, por “débil” y “sin embargo”.
60. **butacas y alfombras** (línea 59) se traducen al portugués por
- A) quadros e espelhos.
 - B) mesas e cadeiras.
 - C) poltronas e tapetes.
 - D) guarda-roupas e criados mudos.